

به نام خداوند بخشنده ی مهربان

نام و نام خانوادگی:

اداره آموزش و پرورش شهرستان ملایر

تاریخ:

آزمون ریاضی پایه چهارم ابتدایی

دبستان عشقی فرد (شاهد ۲)

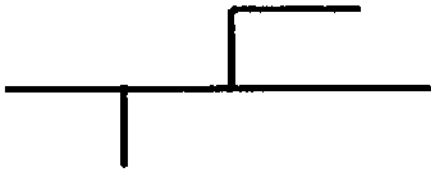
زمان: ۶۰ دقیقه

۱ طبقه میلیون عددی ۸۳ و طبقه یکیهای آن ۴۳۰ و بقیه رقم ها ۵ است. این عدد را با حروف و رقم بنویس و جدول رسم کن.

با رقم.....

با حروف.....

۲ در شکل زیر، خط، نیم خط، پاره خط وجود دارد.



۳ با رقم های (۷ و ۳ و ۴ و ۲ و ۵ و ۰) کوچکترین و بزرگترین عدد ۶ رقمی زوج را بنویس.

ب.....

ک.....

۴ مقایسه کن. ۶۰۴۷۳۰۱  ۶۰۷۴۳۰۱  چهار میلیون هفتصد  چهار میلیارد هفتصد

۵ در جای خالی کلمات مناسب بنویس.

\* برای رسم یک خط کافی است.....

\* نقطه مشترک دو ضلع زاویه را ..... زاویه مینامیم.

\* هر چه اضلاع زاویه را امتداد دهیم اندازه زاویه .....



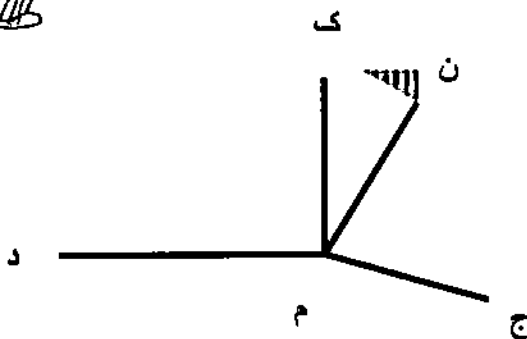
۶ با توجه به شکل به سوالات پاسخ بده.


الف) در این شکل چند زاویه وجود دارد؟

ب) زاویه (ک.م.د) چه نوع زاویه ای است؟

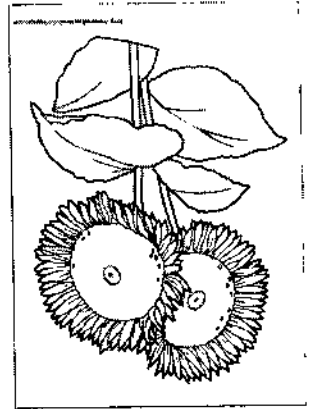
ج) یک زاویه باز نام ببر.

د) کوچکترین زاویه کدام است؟





# حقیقت‌های جالب



$$۷۰ \bigcirc (۷۱ \bigcirc ۵۸) = (۷۱ + ۷۱) \bigcirc ۵۸$$


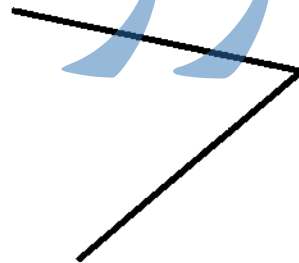
۱۰- در این دو جمله اولی جمع و دومی تفریق است. علامت در پرانتز را تغییر دهید.

۱۱- در این دو جمله اولی جمع و دومی تفریق است. علامت در پرانتز را تغییر دهید.

۱۲- در این دو جمله اولی جمع و دومی تفریق است. علامت در پرانتز را تغییر دهید.

۱۳- در این دو جمله اولی جمع و دومی تفریق است. علامت در پرانتز را تغییر دهید.

- الف) ۲
- ب) ۳
- ج) ۴
- د) ۵



۱۴- در این دو جمله اولی جمع و دومی تفریق است. علامت در پرانتز را تغییر دهید.

۱۵- در این دو جمله اولی جمع و دومی تفریق است. علامت در پرانتز را تغییر دهید.

$$\square = (۰.۷۸ + ۰.۰۸) - ۰.۰۷۵$$

۱۶- در این دو جمله اولی جمع و دومی تفریق است. علامت در پرانتز را تغییر دهید.

۱۷- در این دو جمله اولی جمع و دومی تفریق است. علامت در پرانتز را تغییر دهید.